

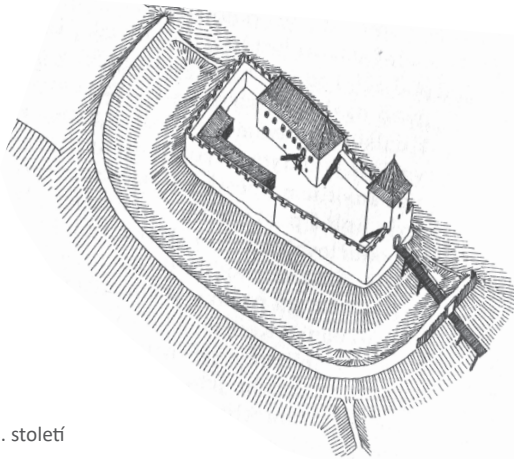
ZAČÁTEK VELKÉHO PŘÍBĚHU

1

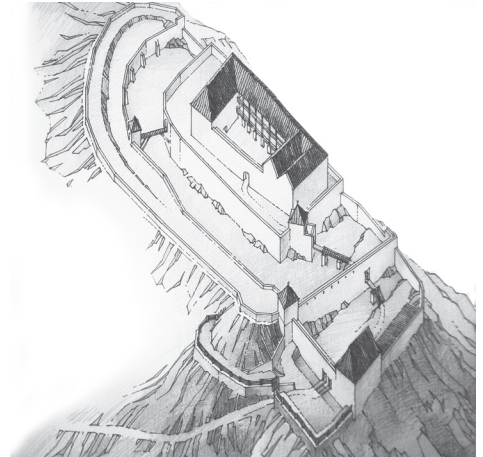
ZÁMEK KUNŠTÁT BYL POSTAVEN VE 13. STOLETÍ JAKO RODOVÉ SÍDLO PÁNŮ Z KUNŠTÁTU, KTEŘÍ SI JEJ UDRŽELI AŽ DO ROKU 1521. POZDĚJŠÍ MAJITELÉ PŘESTAVĚLI HRAD NA RENESANČNÍ ZÁMEK, DNEŠNÍ PODOBU ZÍSKAL KUNŠTÁT V OBDOBÍ BAROKA.

PŘEČTI SI TEXT U MODELU HRADU.

ZJISTI, KDO Z RODU KUNŠTÁTU ZBUDOVAL TOTO OPEVNĚNÉ SÍDLO.....



13. století



15. století

SROVNEJ NEJSTARŠÍ A NEJMLADŠÍ DOLOŽENOU PODOBU HRADU Z OBDOBÍ STŘEDOVĚKU A VYZNAČ ROZDÍLY.

2

MOCENSKÝ VZESTUP DRUHÉ GENERACE RODU PÁNŮ Z KUNŠTÁTU VYVRCHOLIL ZA VLÁDY PŘEMYSLA OTAKARA II. PO JEHO SMRTI NA MORAVSKÉM POLI V ROCE 1278 NECHAL JEHO SYN VÁCLAV II. VYROBIT POHŘEBNÍ KORUNU, ABY UCTIL JEHO PAMÁTKU.

PŘEMÝŠLEJ, PŘI JAKÝCH DALŠÍCH PŘÍLEŽITOSTECH VYUŽÍVALI PANOVNÍCI KORUNU.

ZAMYSLI SE, ČEHO JE KORUNA SYMBOLEM.....

3


NAMÍSTO PODPISŮ SE LISTINY OPATŘOVALY PEČETĚMI S OTISKY ERBŮ.

PROHLÉDNI SI PŘÍSAHU GERHARDA Z KUNŠTÁTU A Z OBŘAN.

ZJISTI, K ČEMU SE V PŘÍSAZE ZAVAZOVAL A PROČ.

PROHLÉDNI SI PEČETĚ NA LISTINĚ.

PŘEKRESLI KUNŠTÁTSKOU PEČEŤ DO PRACOVNÍHO LISTU.



VE SLUŽBÁCH PANOVNÍKA A ZEMĚ

4

STÁTNÍ SPRÁVA I VE STŘEDOVĚKU DBALA NA PŘÍSNÉ VEDENÍ A UCHOVÁNÍ ÚŘEDNÍCH DOKUMENTŮ, JAKO BYLY NAPŘÍKLAD KNIHY K VYMÁHÁNÍ PRÁVA.

VE VITRÍNĚ SI PROHLÉDNI OBAL ZEMSKÝCH DESEK S ERBEM PÁNŮ Z KUNŠTÁTU.

ZJISTI, V JAKÝCH MĚSTECH BYLY ZEMSKÉ DESKY ULOŽENY.....

PŘEMÝŠLEJ, CO SE DO ZEMSKÝCH DESEK ZAPISOVALO.....

TOUHA PO KRÁLOVSTVÍ NEBESKÉM



- 5 VÍRA A ZBOŽNOST VE STŘEDOVĚKU BYLY SOUČÁSTÍ KAŽDODENNÍHO ŽIVOTA, COŽ DOKLÁDAJÍ I ČETNÁ UMĚLECKÁ DÍLA DOCHOVANÁ Z TĚ DOBY.

PROHLÉDNI SI VE VÝKLENKU SOCHU PANNY MARIE S DÍTĚTEM.

PŘEMÝŠLEJ, JAK SE JINÝM ZPŮSOBEM NAZÝVÁ ZOBRAZENÍ PANNY MARIE S DÍTĚTEM.....
ZJISTI, JAKÉ ŘEHOLNÍ DOMY (KLÁŠTERY) NECHAL VYSTAVĚT ROD PÁNŮ Z KUNŠTÁTU.....

PŘÍBĚHY NEPOKOJNÝCH LET

- 6 PÁNI Z KUNŠTÁTU PATŘILI K RODU STATEČNÝCH RYTÍŘŮ A ODDANĚ DOPROVÁZELI KRÁLE VE VÁLEČNÝCH TAŽENÍCH.

POZORUJ VYSTAVENÉ ZBRANĚ.

POROVNEJ JE S OBRÁZKY NA PANELU NA VÝSTAVĚ.
ZAKROUŽKUJ ZBRANĚ HUSITSKÉ.

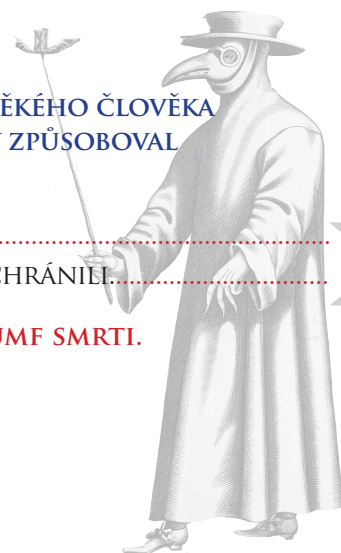


VE STÍNU ČERNÉ SMRTI

- 7 KROMĚ VÁLEČNÝCH TAŽENÍ OHROŽOVALY ŽIVOT STŘEDOVĚKÉHO ČLOVĚKA TAKÉ HLAD A NEMOCI. JEDNOU Z NEMOCÍ BYL MOR, KTERÝ ZPŮSOBOVAL ROZSÁHLÉ EPIDEMIE.

POPIŠ, CO JE TO EPIDEMIE.....
ZJISTI, JAKÝMI PROSTŘEDKY SE LIDÉ PROTI EPIDEMII MORU CHRÁNIL.....

POZORNĚ SLEDUJ VELKÝ BAREVNÝ OBRAZ S NÁZVEM TRIUMF SMRTI.
ZKOUMEJ, CO VŠECHNO JE NA OBRAZE ZACHYCENO.



VŠEDNÍ DNY NA HRADĚ

- 8 SOUČÁSTI HRADU BYLA KUCHYŇĚ, SPIŽÍRNY A ZDROJ VODY - STUDNA, KTERÁ JE 47 METRŮ HLUBOKÁ.

ROZHLÉDNI SE PO MÍSTNOSTI.

ZJISTI, JAKÝM ZPŮSOBEM SE ODVÁDĚLA VODA Z KUCHYŇĚ.....
PŘEMÝŠLEJ, PROČ BYLA VODA PRO HRAD NEPOSTRADATELNÁ.....

NA CESTĚ K TRŮNŮM A SRDCI NÁRODA

- 9 S RODEM PÁNŮ Z KUNŠTÁTU JE SPŘÍZNĚNO MNOHO EVROPSKÝCH PANOVNICKÝCH RODŮ.

PROHLÉDNI SI RODOKMEN NEJSILNĚJŠÍHO ČLENA RODU PÁNŮ Z KUNŠTÁTU, KTERÝ ŽIL V LETECH 1420 - 1471.

ZJISTI, JAKÉ JE JEHO JMÉNO.....
NAJDI VŠECHNY SOUČASNÉ EVROPSKÉ PANOVNICKÉ RODY S NÍM SPŘÍZNĚNÉ.....

